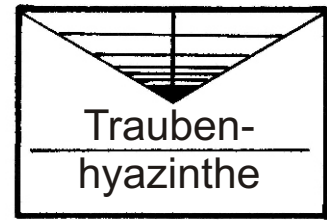
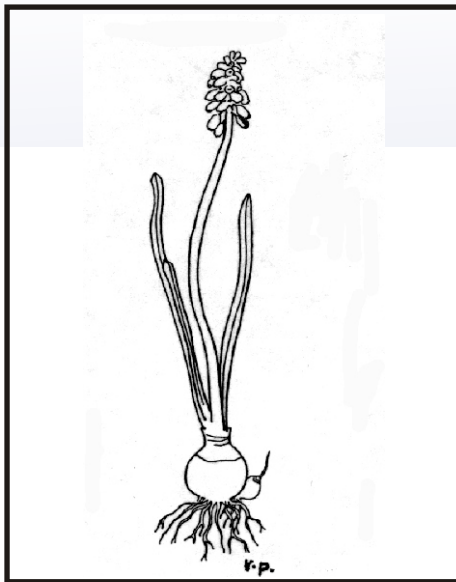


Name: _____


Datum: _____

Steck




brief

s-g




Blüte:
Die Traubenhyazinthe hat Blütenkelche, die ähnlich wie bei einer Weintraube angeordnet sind. In dem Kelch findet man 6 Staubbeutel und einen Griffel.

z



Blätter:
Die dunkelgrünen Blätter sind fest, schmal und spitz und sind halb zusammengerollt. Sie können den harten, gefrorenen Boden leichter durchstoßen.

z-g



Stängel:

Der grüne Stängel ist fest und rund.

z-g



Speicherorgan, Wurzel:
In der Zwiebel, dem Speicherorgan der Traubenhyazinthe befinden sich Wasser und Nährstoffe. Diese Hyazinthe vermehrt sich durch viele Brutzwiebeln.

Trage in die Kreise ein, welches Merkmal für diesen Teil der Pflanze überwiegt:
s = schön oder g = geordnet oder z = zweckmäßig, sinnvoll